



3年生では、ハウセンカ、ヒマワリ、マリーゴールドをそだてるよ。みんなはどの花のタネをうえたかな。

チャレンジ1☆


どのタネからどの花がそだつのか考えて、・と・をつなごう!



Blank box for writing the name of the flower from the first image.

Blank box for writing the name of the flower from the second image.

Blank box for writing the name of the flower from the third image.



やってみよう!!!

タネから芽が出た後のようすを、^め記ろく表に書いているね。

★★せい長がわかるようにしよくぶつの
高さをはかろう!

教科書P19にやり方が書いてあるよ。
紙テープがないときは、じょうぎや、
ゆび、手などを使うといいね。算数のべん強を思い出して(けしゴム○こ分など)、
長さをはかるのがおすすめだよ。高さは、
記ろく表に書きこむといいね。

白黒でわかりにくい人は、
新城小のホームページでカラーが見られるよ

チャレンジ2☆

それぞれの花の名前を書きこもう!

教科書P14、15を参考さんこうするといいね!